

### **Příloha 3: Vyplněné pracovní listy**

**Název materiálu Tříbarevné testy ke sledování pokroku žáků na 1. stupni**

**Autor: Mgr. Eva Machová**



EVROPSKÁ UNIE  
Evropské strukturální a investiční fondy  
Operační program Výzkum, vývoj a vzdělávání

## 1. Naše země v pravěku – práce žáka nadaného

1. Které pořadí období pravěku je správné?

a) doba kamenná, doba železná, doba bronzová  
 b) doba kamenná, doba bronzová, doba železná  
 c) doba železná, doba bronzová, doba kamenná 1 bod

2. Ve starší době kamenné se lidé živili:

a) lovem a sběrem kořínků, lesních plodů, semen  
 b) chlebovými plackami, kaší, ovocem  
 c) jen tím, co ukradli jiné tlupě 1 bod

3. Ve starší době kamenné používali pravěcí lidé k lovu:

a) pouze vlastní ruce  
 b) pěstní klín, oštěpy, kyje, luky a šípy  
 c) meče a pušky 1 bod

4. Vyber a zakroužkuj druhy materiálu, který mohli lidé ve starší době kamenné použít na výrobu nástrojů a zbraní:

kámen,  plast,  dřevo,  kosti, sklo, papír,  kůže, cihly, železo, guma 4 body

5. Po oteplení naší planety – v mladší době kamenné – se způsob života pravěkých lidí:

a) nezměnil, dál se živili lovem zvěře a sběrem plodin  
 b) změnil, z lovců a sběračů se stali zemědělci a chovatelé dobytka  
 c) částečně se změnil, začali lovit především ovce a kozy 1 bod

6. Který kov se nevyskytuje v přírodě?

a) železo  
 b) měď  
 c) bronz 1 bod

7. První obyvatelé naší země známí z písemných záznamů, kteří uměli razit mince, byli:

a) Kvaltové  
 b) Keltové  
 c) hobité 1 bod

Mincím se říkalo:

- a) skleněnky
- b) duhovky
- c) rohovky

1 bod

8. Opevněná střediska řemesel a obchodu, postavená na vyvýšených místech, se nazývají:

- a) oppidum
- b) tvrz
- c) zámek

1 bod

9. Na našem území žili tito obyvatelé (zakroužkuj):

- a) Keltové
- b) Arabové
- c) Germáni
- d) Rusové

2 body

## SEBEHODNOCENÍ

V tomto testu jsem mohl/a získat maximálně 14 bodů.

Získal/a jsem: 12

S tímto výsledkem jsem spokojený/á: ANO /  NE

Test považuji za jednoduchý (na škále – čím více okének vybarvím, tím byl pro mě test obtížnější).

--	--	--	--



1. Jaké největší zvíře lovil pračlověk? Mamuta. 1

2. Škrtni, která doba nepatří do historického vývoje:  
 a/ doba kamenná  
 b/ doba bronzová  
 c/ doba železná  
 d/ ~~doba zlatá~~ 1


3. Zakroužkuj, které národy žily na našem území:  
 a/ Američané  
 b/ Keltové  
 c/ Aztékové  
 d/ Germáni 2

4. Ve starší době kamenné používali pravěcí lidé k lovu:  
 a) pouze vlastní ruce  
 b) meče a pušky  
 c) pěstní klín, oštěpy, kyje, luky a šípy 1

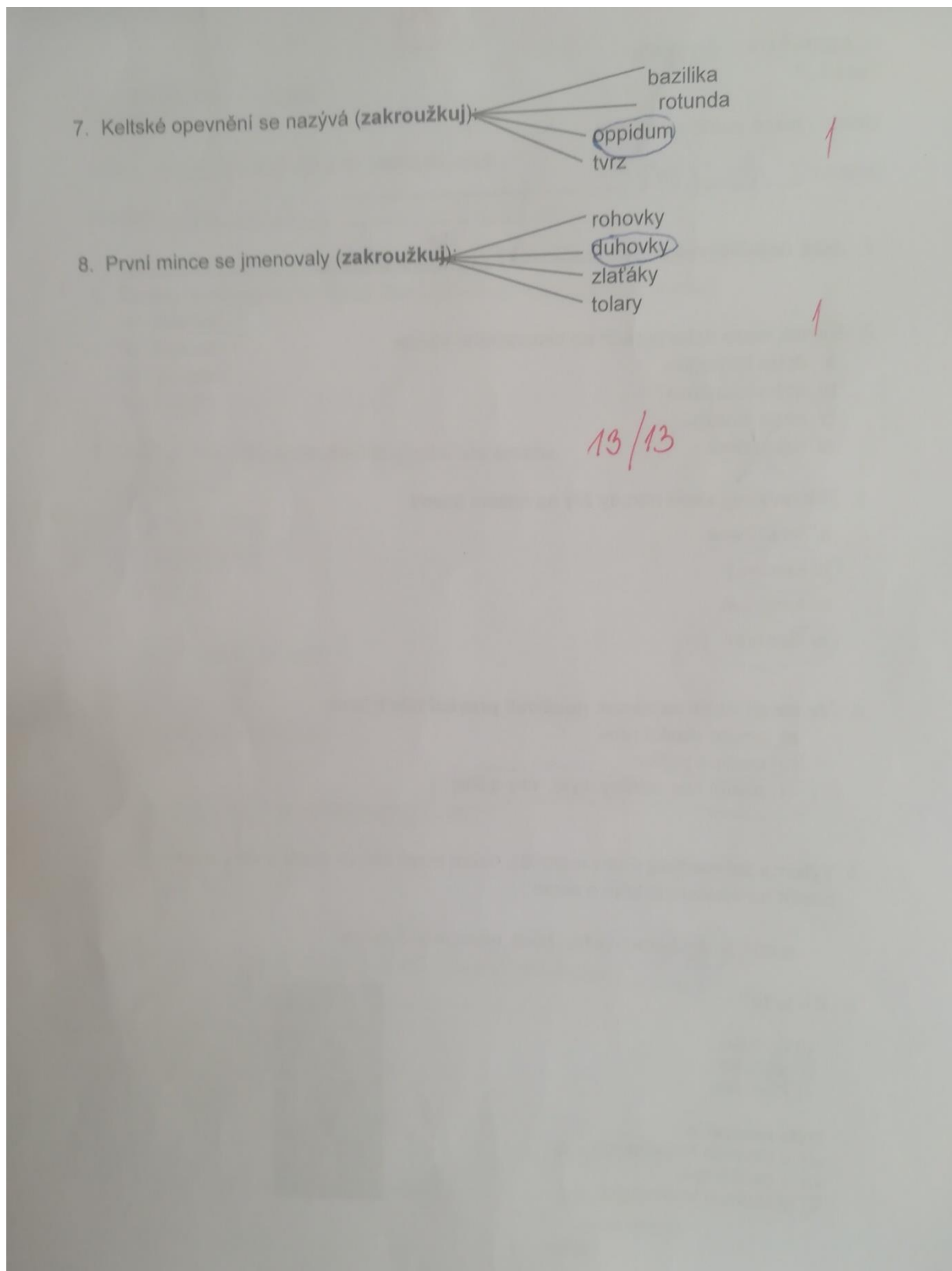
5. Vyber a zakroužkuj druhy materiálu, které mohli lidé ve starší době kamenné použít na výrobu nástrojů a zbraní:  
 guma, kůže, kámen, cihly, kosti, plast, dřevo, železo 4

6. Co je to?  
 a) Maruše  
 b) Venuše  
 c) Hedvika

Byla nalezena:  
 a) v Horních Počernicích  
 b) v okolí Prahy  
 c) v Dolních Věstonicích



2



## 1. Naše země v pravěku – práce žáka podávajícího obvykle podprůměrné výkony

1. Které pořadí období pravěku je správné?

a) doba kamenná, doba železná, doba bronzová  
 b) doba kamenná, doba bronzová, doba železná  
 c) doba železná, doba bronzová, doba kamenná

1 bod

2. Ve starší době kamenné se lidé živili:

a) lovem a sběrem kořínků, lesních plodů, semen  
 b) chlebovými plackami, kaší, ovocem  
 c) jen tím, co ukradli jiné tlupě

1 bod

3. Ve starší době kamenné používali pravěcí lidé k lovu:

a) pouze vlastní ruce  
 b) pěstní klín, oštěpy, kyje, luky a šípy  
 c) meče a pušky

1 bod

4. Vyber a zakroužkuj druhy materiálu, který mohli lidé ve starší době kamenné použít na výrobu nástrojů a zbraní:

kámen,  plast,  dřevo,  kosti,  sklo,  papír,  kůže,  cihly,  železo,  guma

4 body

5. Po oteplení naší planety – v mladší době kamenné – se způsob života pravěkých lidí:

a) nezměnil, dál se živili lovem zvěře a sběrem plodin  
 b) změnil, z lovců a sběračů se stali zemědělci a chovatelé dobytka  
 c) částečně se změnil, začali lovit především ovce a kozy

1 bod

6. Který kov se nevyskytuje v přírodě?

a) železo  
 b) měď  
 c) bronz

1 bod

7. První obyvatelé naší země známí z písemných záznamů, kteří uměli razit mince, byli:

a) Kvaltové  
 b) Keltové  
 c) hobité

1 bod

Mindím se říkalo:

- a) skleněny
- b) duhovky
- c) rohovky

1 bod

8. Opevněná střediska řemesel a obchodu, postavená na vyvýšených místech, se nazývají:

- a) oppidum
- b) tvrz
- c) zámek

1 bod

9. Na našem území žili tyto obyvatelé (zakroužkuj):

- a) Keltové
- b) Arabové
- c) Germáni
- d) Rusové

2 body

## SEBEHODNOCENÍ

V tomto testu jsem mohl/a získat maximálně 14 bodů.

Získal/a jsem: 8,9

S tímto výsledkem jsem spokojený/á: ANO / NE

Test považuji za jednoduchý (na škále – čím více okének vybarvím, tím byl pro mě test obtížnější).

--	--	--	--



1. Jaké největší zvíře lovil pračlověk? mamuta 1

2. Škrtni, která doba nepatří do historického vývoje:

- a/ doba kamenná
- b/ doba bronzová
- c/ doba železná
- d/ doba zlatá 1

3. Zakroužkuj, které národy žily na našem území:

- a/ Američané
- b/ Keltové
- c/ Aztékové 2
- d/ Germáni

4. Ve starší době kamenné používali pravěcí lidé k lovu:

- a) pouze vlastní ruce
- b) meče a pušky
- c) pěstní klín, oštěpy, kyje, luky a šípy 1

5. Vyber a zakroužkuj druhy materiálu, které mohli lidé ve starší době kamenné použít na výrobu nástrojů a zbraní:

guma,  kůže,  kámen,  cihly,  kosti,  plast,  dřevo, železo 4

6. Co je to?

- a) Maruše
- b) Venuše
- c) Hedvika

Byla nalezena:

- a) v Horních Počernicích
- b) v okolí Prahy
- c) v Dolních Věstonicích 2





7. Keltské opevnění se nazývá (zakroužkuj):

- bazilika
- rotunda
- oppidum
- tvrz

1

8. První mince se jmenovaly (zakroužkuj):

- rohovky
- duhovky
- zlaťáky
- tolary

1

13/13



## 1. Naše země v pravěku – práce žáka s IVP

1. Které pořadí období pravěku je správné?

a) doba kamenná, doba železná, doba bronzová  
 b) doba kamenná, doba bronzová, doba železná  
 c) doba železná, doba bronzová, doba kamenná

1 bod

2. Ve starší době kamenné se lidé živili:

a) lovem a sběrem kořínků, lesních plodů, semen  
 b) chlebovými plackami, kaší, ovocem  
 c) jen tím, co ukradli jiné tlupě

1 bod

3. Ve starší době kamenné používali pravěcí lidé k lovu:

a) pouze vlastní ruce  
 b) pěstní klín, oštěpy, kyje, luky a šípy  
 c) meče a pušky

1 bod

4. Vyber a zakroužkuj druhy materiálu, který mohli lidé ve starší době kamenné použít na výrobu nástrojů a zbraní:

kámen,  plast,  dřevo,  kosti,  sklo,  papír,  kůže,  cihly,  železo,  guma

4 body

5. Po oteplení naší planety – v mladší době kamenné – se způsob života pravěkých lidí:

a) nezměnil, dál se živili lovem zvěře a sběrem plodin  
 b) změnil, z lovců a sběračů se stali zemědělci a chovatelé dobytka  
 c) částečně se změnil, začali lovit především ovce a kozy

1 bod

6. Který kov se nevyskytuje v přírodě?

a) železo  
 b) měď  
 c) bronz

1 bod

7. První obyvatelé naší země známí z písemných záznamů, kteří uměli razit mince, byli:

a) Kvaltové  
 b) Keltové  
 c) hobité

1 bod

Míněním se říkalo:

- a) skleněnky
- b) duhovky
- c) rohovky

1 bod

8. Opevněná střediska řemesel a obchodu, postavená na vyvýšených místech, se nazývají:

- a) oppidum
- b) tvrz
- c) zámek

1 bod

9. Na našem území žili tito obyvatelé (zakroužkuj):

- a) Keltové
- b) Arabové
- c) Germáni
- d) Rusové

2 body

## SEBEHODNOCENÍ

V tomto testu jsem mohl/a získat maximálně 14 bodů.

Získal/a jsem: 10 / 10

S tímto výsledkem jsem spokojený/á: ANO  NE

Test považuji za jednoduchý (na škále – čím více okének vybarvím, tím byl pro mě test obtížnější).



1. Jaké největší zvíře lovil pračlověk? MAMUT 1

2. Škrtni, která doba nepatří do historického vývoje:  
 a/ doba kamenná  
 b/ doba bronzová  
 c/ doba železná  
~~d/ doba zlatá~~ 1


3. Zakroužkuj, které národy žily na našem území:  
 a/ Američané  
 b/ Keltové  
 c/ Aztékové  
 d/ Germáni 2

4. Ve starší době kamenné používali pravěcí lidé k lovu:  
 a) pouze vlastní ruce  
 b) meče a pušky  
 c) pěstní klín, oštěpy, kyje, luky a šípy 1

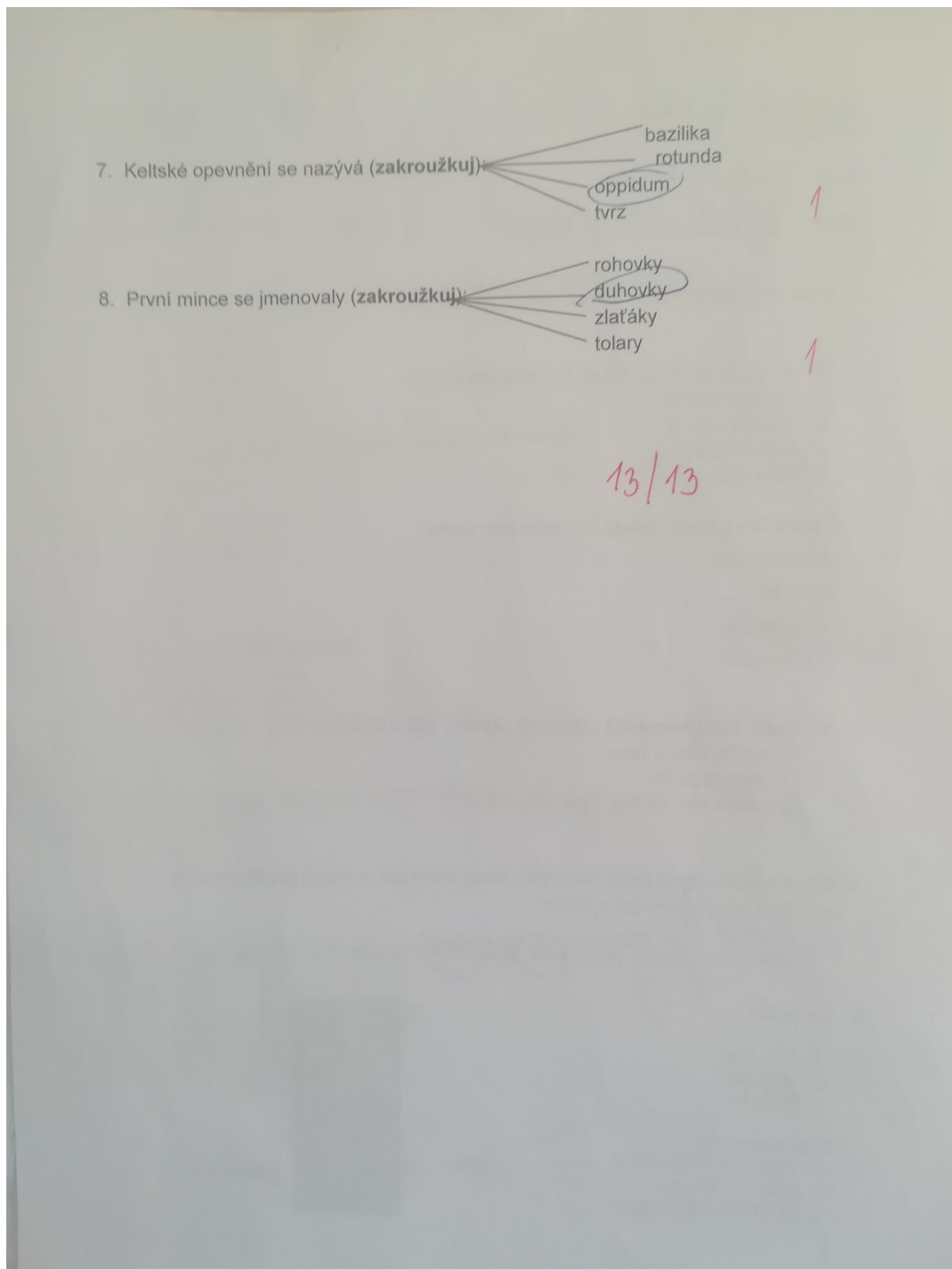
5. Vyber a zakroužkuj druhy materiálu, které mohli lidé ve starší době kamenné použít na výrobu nástrojů a zbraní:  
 guma,  kůže,  kámen,  cihly,  kosti,  plast,  dřevo, železo 4

6. Co je to?  
 a) Maruše  
 b) Venuše  
 c) Hedvika

Byla nalezena:  
 a) v Horních Počernicích  
 b) v okolí Prahy  
 c) v Dolních Věstonicích



2



## 2. Počátek středověku: O Velké Moravě – práce žáka nadaného

1. V naší zemi se během 5. – 6. století (počátek středověku) trvale usadili:

- a) Sasové
- b) Slované
- c) Keltové

1 bod

2. Podle pověsti přivedl/a tyto kmeny:

- a) kněžna Libuše
- b) Horymír
- c) praotec Čech

1 bod

3. Noví obyvatelé našich zemí uctívali:

- a) mnoho bohů
- b) jednoho boha
- c) lesní skřítky

1 bod

Živili se:

- a) zemědělstvím a řemesly
- b) jen lovem zvěře
- c) přepadáváním kupců

1 bod

4. Slovanské kmeny usazené na našem území poprvé sjednotil:

- a) Avar
- b) Mojmir
- c) Sámó

1 bod

5. První stát, který vznikl na našem území, se nazýval:

- a) Velká Morava
- b) Velké Čechy
- c) Sámova říše

1 bod

6. Rod, který založil první stát, se jmenoval:

- a) Sámovci
- b) Moravici
- c) Mojmírovci

Začalo se šířit nové náboženství:

- a) pohanství
- b) barbarství
- c) křesťanství

1 bod

7. Jak se jmenují bratři, kteří ve Velkomoravské říši sloužili mše ve slovanském jazyce:

- a) Metoděj a Katoděj
- b) Konstantin a Metoděj
- c) Konstantin a Dobroděj

1 bod

8. Nové slovanské písmo, které sestavil jeden z bratrů, se nazývá:

- a) kadidelnice
- b) slovanice
- c) hlaholice

1 bod

9. Zboží si kupci a řemeslníci na Velké Moravě:

- a) kupovali
- b) vyměňovali
- c) každý si zadarmo bral, co chtěl

1 bod

10. Bohatí obyvatelé Velkomoravské říše bydleli v:

- a) hradištích
- b) chatách
- c) městech

1 bod

11. Velkomoravská říše:

- a) skutečně existovala, ale rozpadla se
- b) nerozpadla se, trvala celých 300 let
- c) není jisté, zda existovala, vyprávějí se o ní jen pověsti

1 bod

12. Zboží si kupci a řemeslníci na Velké Moravě:

- a) vyměňovali
- b) každý si bral, co chtěl
- c) kupovali

1 bod

## SEBEHODNOCENÍ

V tomto testu jsem mohl/a získat maximálně 14 bodů.

Získal/a jsem: 14

S tímto výsledkem jsem spokojený/á:  ANO / NE

Test považuji za jednoduchý (na škále – čím více okének vybarvím, tím byl pro mě test obtížnější).

--	--	--	--

1. Škrtni, které kmeny se v naší zemi během 5. – 6. století neusadily:

- a/ Slované
- b/ Keltové
- c/ Germáni
- d/ Tataři

3

2. Zakroužkuj, kdo podle pověsti přivedl tyto kmeny:

- a/ Bruncvík
- b/ praotec Čech
- c/ praotec Lech
- d/ Bivoj

1

3. V té době lidé uctívali:

- a) jednoho boha
- b) mnoho bohů
- c) nadpřirozené bytosti

1

4. Zakroužkuj, kdo kmeny poprvé sjednotil:

- a) Mojmír
- b) Sámo
- c) Metoděj

1

5. První stát, který vznikl na našem území, se jmenoval: Veliká Morava

1

Založil ho rod: (zakroužkuj)

- a) Mojmírovců
- b) Přemyslovců
- c) Lumírovců

1

6. Začalo se šířit (zakroužkuj):

- křesťanství
- pohanství
- judaismus
- islám

1



7. Šířili ho: Cyril a Metoděj 2
8. V tomto náboženství uctivali: 1. jednotu boha 1
9. Nové slovanské písmo se jmenovalo: V Hlaholice 1

13/13



## 2. Počátek středověku: O Velké Moravě – práce žáka podávajícího obvykle podprůměrné výkony

1. V naší zemi se během 5. – 6. století (počátek středověku) trvale usadili:

a) Sasové  
 b) Slované  
 c) Keltové

1 bod

2. Podle pověsti přivedl/a tyto kmeny:

a) kněžna Libuše  
 b) Horymír  
 c) praotec Čech

1 bod

3. Noví obyvatelé našich zemí uctívali:

a) mnoho bohů  
 b) jednoho boha  
 c) lesní skřítky

1 bod

Živili se:

a) zemědělstvím a řemesly  
 b) jen lovem zvěře  
 c) přepadáváním kupců

1 bod

4. Slovanské kmeny usazené na našem území poprvé sjednotil:

a) Avar  
 b) Mojmír  
 c) Sámo

1 bod

5. První stát, který vznikl na našem území, se nazýval:

a) Velká Morava  
 b) Velké Čechy  
 c) Sámova říše

1 bod

6. Rod, který založil první stát, se jmenoval:

a) Sámovci  
 b) Moravici  
 c) Mojmírovci

1 bod

Začalo se šířit nové náboženství:

a) pohanství  
 b) barbarství  
 c) křesťanství

1 bod

7. Jak se jmenují bratři, kteří ve Velkomoravské říši sloužili mše ve slovanském jazyce:

- a) Metoděj a Katoděj
  - b) Konstantin a Metoděj
  - c) Konstantin a Dobroděj
- 1 bod

8. Nové slovanské písmo, které sestavil jeden z bratrů, se nazývá:

- a) kadelnice
  - b) slovanice
  - c) hlaholice
- 1 bod

9. Zboží si kupci a řemeslníci na Velké Moravě:

- a) kupovali
  - b) vyměňovali
  - c) každý si zadarmo bral, co chtěl
- 1 bod

10. Bohatí obyvatelé Velkomoravské říše bydleli v:

- a) hradištích
  - b) chatách
  - c) městech
- 1 bod

11. Velkomoravská říše:

- a) skutečně existovala, ale rozpadla se
  - b) nerozpadla se, trvala celých 300 let
  - c) není jisté, zda existovala, vyprávějí se o ní jen pověsti
- 1 bod

12. Zboží si kupci a řemeslníci na Velké Moravě:

- a) vyměňovali
  - b) každý si bral, co chtěl
  - c) kupovali
- 1 bod

## SEBEHODNOCENÍ

V tomto testu jsem mohl/a získat maximálně 14 bodů.

Získal/a jsem: 12

S tímto výsledkem jsem spokojený/á:  ANO /  NE

Test považuji za jednoduchý (na škále – čím více okének vybarvím, tím byl pro mě test obtížnější).

--	--	--	--



1. Škrtni, které kmeny se v naší zemi během 5. – 6. století neusadily:

- a/ Slované
- b/ Keltové
- c/ Germáni
- d/ Tataři

2

2. Zakroužkuj, kdo podle pověsti přivedl tyto kmeny:

- a/ Bruncvík
- b/ praotec Čech
- c/ praotec Lech
- d/ Bivoj

1

3. V té době lidé uctívali:

- a) jednoho boha
- b) mnoho bohů
- c) nadpřirozené bytosti

1

4. Zakroužkuj, kdo kmeny poprvé sjednotil:

- a) Mojmír
- b) Sámo
- c) Metoděj

1

5. První stát, který vznikl na našem území, se jmenoval: \_\_\_\_\_

Lámanova říše

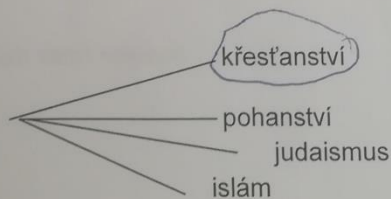
0

Založil ho rod: (zakroužkuj)

- a) Mojmírovců
- b) Přemyslovců
- c) Lumírovců

1

6. Začalo se šířit (zakroužkuj):



1

7. Šířili ho: slovani 0
8. V tomto náboženství uctívali: bohi 0
9. Nové slovanské písmo se jmenovalo: naholice 1

8/13



## 2. Počátek středověku: O Velké Moravě – práce žáka s IVP

1. V naší zemi se během 5. – 6. století (počátek středověku) trvale usadili:

- a) Sasové
- b) Slované
- c) Keltové

1 bod

2. Podle pověsti přivedl/a tyto kmeny:

- a) kněžna Libuše
- b) Horymír
- c) praotec Čech

1 bod

3. Noví obyvatelé našich zemí uctívali:

- a) mnoho bohů
- b) jednoho boha
- c) lesní skřítky

1 bod

Živili se:

- a) zemědělstvím a řemesly
- b) jen lovem zvěře
- c) přepadáváním kupců

1 bod

4. Slovanské kmeny usazené na našem území poprvé sjednotil:

- a) Avar
- b) Mojmír
- c) Sámó

1 bod

5. První stát, který vznikl na našem území, se nazýval:

- a) Velká Morava
- b) Velké Čechy
- c) Sámova říše

1 bod

6. Rod, který založil první stát, se jmenoval:

- a) Sámovci
- b) Moravíci
- c) Mojmírovci

1 bod

Začalo se šířit nové náboženství:

- a) pohanství
- b) barbarství
- c) křesťanství

1 bod

7. Jak se jmenují bratři, kteří ve Velkomoravské říši sloužili mše ve slovanském jazyce:

- a) Metoděj a Katoděj
- b) Konstantin a Metoděj 1 bod
- c) Konstantin a Dobroděj

8. Nové slovanské písmo, které sestavil jeden z bratrů, se nazývá:

- a) kadidelnice
- b) slovanice
- c) hlaholice 1 bod

9. Zboží si kupci a řemeslníci na Velké Moravě:

- a) kupovali
- b) vyměňovali 1 bod
- c) každý si zadarmo bral, co chtěl

10. Bohatí obyvatelé Velkomoravské říše bydleli v:

- a) hradištích 1 bod
- b) chatách
- c) městech

11. Velkomoravská říše:

- a) skutečně existovala, ale rozpadla se 1 bod
- b) nerozpadla se, trvala celých 300 let
- c) není jisté, zda existovala, vyprávějí se o ní jen pověsti

12. Zboží si kupci a řemeslníci na Velké Moravě:

- a) vyměňovali 1 bod
- b) každý si bral, co chtěl
- c) kupovali


## SEBEHODNOCENÍ

V tomto testu jsem mohl/a získat maximálně 14 bodů.

Získal/a jsem: 12

S tímto výsledkem jsem spokojený/á: ANO / NE

Test považuji za jednoduchý (na škále – čím více okének vybarvím, tím byl pro mě test obtížnější).



1. **Škrtni**, které kmeny se v naší zemi během 5. – 6. století neusadily:

- a/ Slované
- b/ Keltové 3
- c/ Germáni
- d/ Tataři

2. **Zakroužkuj**, kdo podle pověsti přivedl tyto kmeny:

- a/ Bruncvík
- b) praotec Čech 1
- c/ praotec Lech
- d/ Bivoj

3. **V té době lidé uctívali:**

- a) jednoho boha
- b) mnoho bohů 1
- c) nadpřirozené bytosti

4. **Zakroužkuj**, kdo kmeny poprvé sjednotil:

- a) Mojmír
- b) Sámo 1
- c) Metoděj

5. **První stát, který vznikl na našem území, se jmenoval:** Velkomoravská říše 1

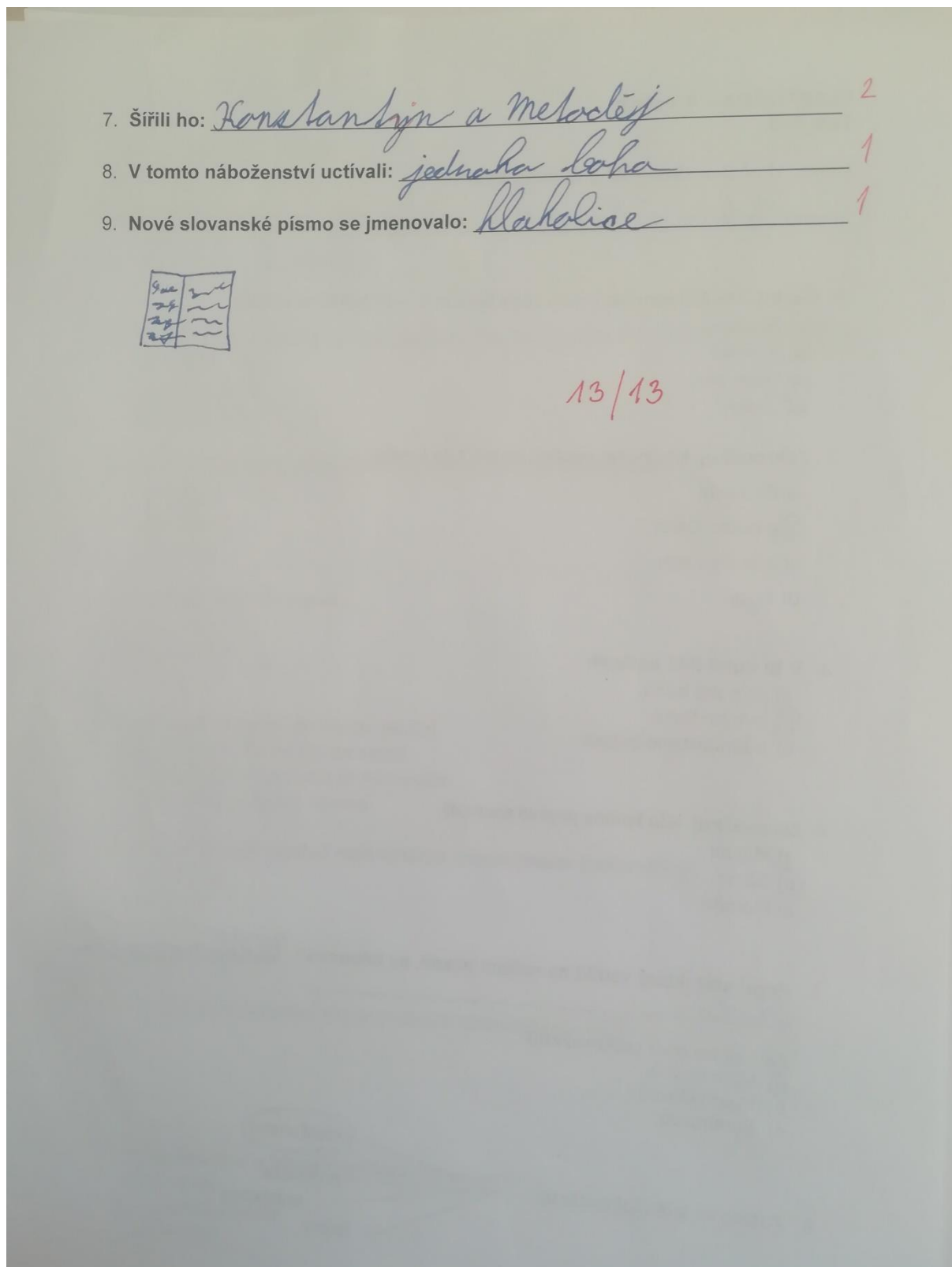
**Založil ho rod: (zakroužkuj)**

- a) Mojmírovců 1
- b) Přemyslovců
- c) Lumírovců

6. **Začalo se šířit (zakroužkuj):**

- křesťanství 1
- pohanství
- judaismus
- islám





### 3. V českém státě za přemyslovských knížat – práce žáka nadaného

1. Který ze slovanských kmenů se během stěhování národů usadil v nížině u řeky Vltavy?

a) Mojmírovci  
 b) Čechové  
 c) Přemyslovci

1 bod

2. Nejsilnějším rodem tohoto kmenů byli:

a) Slavníkovci  
 b) Zlechové  
 c) Přemyslovci

1 bod

3. Který z českých knížat není znám jen z pověstí, ale dochovaly se o něm písemné záznamy?

a) Bivoj  
 b) Bořivoj  
 c) Zvonimír

1 bod

4. Který český kníže se dal jako první pokřtít?

a) Bořivoj  
 b) Václav  
 c) Boleslav

1 bod

5. Jak zemřel kníže Václav, který byl po své smrti prohlášen za svatého?

a) byl na příkaz svého bratra zabit  
 b) byl přepaden lupiči, když jel navštívit bratra  
 c) zemřel ve stáří přirozenou smrtí

1 bod

6. Václavova babička, která ho vychovávala, se jmenovala:

a) Drahomíra  
 b) Ludmila  
 c) Libuše

1 bod

7. Který český kníže dal razit stříbrné mince, zvané denáry?

a) Václav  
 b) Boleslav  
 c) Bořivoj

1 bod

8. V Čechách byl na konci 10. století vyražděn významný rod. Jmenoval se:

a) Slavníkovci  
 b) Slamníkovci  
 c) Klamníkovci

1 bod

9. Nejvíce lidí se živilo:

- a) psaním knih
- b) zemědělstvím a chovem dobytka
- c) žebráním

1 bod

10. Řemeslníci byli:

- a) lidé, kteří vyráběli různé potřebné předměty (hrnce, boty, ..)
- b) potulní provazolezci a herci
- c) dozorcí ve školách

1 bod

11. Číst a psát uměli ve středověku:

- a) nikdo to neuměl
- b) pouze urození a bohatí
- c) pouze mniši a kněží

1 bod

12. Kosmas byl:

- a) český kníže
- b) kronikář
- c) osobní strážce knížete Boleslava

1 bod

13. Kostely postavené v románském slohu se jmenovaly:

- a) rotundy a hraděště
- b) rotundy a hrady
- c) rotundy a baziliky

1 bod

## SEBEHODNOCENÍ

V tomto testu jsem mohl/a získat maximálně 13 bodů.

Získal/a jsem: 11

S tímto výsledkem jsem spokojený/á: ANO /  NE

Test považuji za jednoduchý (na škále – čím více okének vybarvím, tím byl pro mě test obtížnější).



1. **Zakroužkuj** nejsilnější rod z kmene Čechů, který se usadil v nížině u řeky Vltavy:

- a/ Slavníkovci
- b/ Mojmírovci
- c/ Přemyslovci

2. **Zakroužkuj**, který přemyslovský kníže se dal jako první pokřtít:

- a/ Bořivoj
- b/ Boleslav
- c/ Václav

3. **Ludmila** byla Václavova:

- a) matka
- b) babička
- c) kmotra

4. **Zakroužkuj**, jak kníže Václav zemřel:

- a) jeho bratr ho nechal zavraždit
- b) nešťastnou náhodou při lovu zvěře
- c) zemřel po dlouhé nemoci

5. **Kníže Boleslav nechal razit stříbrné mince zvané: (zakroužkuj)**

- a) duhovky
- b) denáry
- c) dolary

6. Významný vyražděný rod se jmenoval **(zakroužkuj)**:

- Mojmírovci
- Slavníkovci
- Habsburkové
- Slavníkovci

7. **První kroniku o historii našich zemí napsal:**

- a) Kosmas
- b) Jindřich Ptáčník
- c) Boleslav

8. V českém státě se nejvíce lidí živilo:

- a) opisem knih
- b) zemědělstvím a řemeslům
- c) obchodu

1

9. Kostely postavené v románském slohu se jmenovaly:

rotundy a baziliky

2

10/10



### 3. V českém státě za přemyslovských knížat – práce žáka podávajícího obvykle podprůměrné výkony

1. Který ze slovanských kmenů se během stěhování národů usadil v nížině u řeky Vltavy?  
a) Mojmírovci  
 b) Čechové  
c) Přemyslovci 1 bod

2. Nejsilnějším rodem tohoto kmena byli:  
a) Slavníkovci  
b) Zlechové  
 c) Přemyslovci 1 bod

3. Který z českých knížat není znám jen z pověstí, ale dochovaly se o něm písemné záznamy?  
a) Bivoj  
 b) Bořivoj  
c) Zvonimír 1 bod

4. Který český kníže se dal jako první pokřtít?  
 a) Bořivoj  
b) Václav  
c) Boleslav 1 bod

5. Jak zemřel kníže Václav, který byl po své smrti prohlášen za svatého?  
 a) byl na příkaz svého bratra zabit  
b) byl přepaden lupiči, když jel navštívit bratra  
c) zemřel ve stáří přirozenou smrtí 1 bod

6. Václavova babička, která ho vychovávala, se jmenovala:  
a) Drahomíra  
 b) Ludmila  
c) Libuše 1 bod

7. Který český kníže dal razit stříbrné mince, zvané denáry?  
a) Václav  
 b) Boleslav  
c) Bořivoj 1 bod

8. V Čechách byl na konci 10. století vyražděn významný rod.  
Jmenoval se:  
 a) Slavníkovci  
b) Slamníkovci  
c) Klamníkovci 1 bod

9. Nejvíc lidí se živilo:

- a) psaním knih
- b) zemědělstvím a chovem dobytka
- c) žebráním

1 bod

10. Řemeslníci byli:

- a) lidé, kteří vyráběli různé potřebné předměty (hrnce, boty, ...)
- b) potulní provazolezci a herci
- c) dozorcí ve školách

1 bod

11. Číst a psát uměli ve středověku:

- a) nikdo to neuměl
- b) pouze urození a bohatí
- c) pouze mniši a kněží

1 bod

12. Kosmas byl:

- a) český kníže
- b) kronikář
- c) osobní strážce knížete Boleslava

1 bod

13. Kostely postavené v románském slohu se jmenovaly:

- a) rotundy a hradiště
- b) rotundy a hrady
- c) rotundy a baziliky

1 bod


## SEBEHODNOCENÍ

V tomto testu jsem mohl/a získat maximálně 13 bodů.

Získal/a jsem: 13

S tímto výsledkem jsem spokojený/á:  ANO /  NE

Test považuji za jednoduchý (na škále – čím více okének vybarvím, tím byl pro mě test obtížnější).



1. **Zakroužkuj** nejsilnější rod z kmene Čechů, který se usadil v nížině u řeky Vltavy:  
 a/ Slavníkovci  
 b/ Mojmirovci  
 c) Přemyslovci 1

2. **Zakroužkuj**, který přemyslovský kníže se dal jako první pokřtít:  
 a) Bořivoj  
 b/ Boleslav  
 c) Václav 0

3. **Ludmila** byla Václavova:  
 a) matka  
 b) babička  
 c) kmotra 1

4. **Zakroužkuj**, jak kníže Václav zemřel:  
 a) jeho bratr ho nechal zavraždit  
 b) nešťastnou náhodou při lovu zvěře  
 c) zemřel po dlouhé nemoci 1

5. **Kníže Boleslav** nechal razit stříbrné mince zvané: (zakroužkuj)  
 a) duhovky  
 b) denáry  
 c) dolary 1

6. **Významný vyražděný rod** se jmenoval (zakroužkuj):  
 Mojmirovci  
 Slavníkovci  
 Habsburkové  
 Slamníkovci 1

7. **První kroniku o historii našich zemí** napsal:  
 a) Kosmas  
 b) Jindřich Ptáčník  
 c) Boleslav 1





8. V českém státě se nejvíce lidí živilo:

- a) opisem knih
- b) zemědělstvím a řemeslům
- c) obchodu

1

9. Kostely postavené v románském slohu se jmenovaly:

*rotundy, baziliky*

2

9/10



### 3. V českém státě za přemyslovských knížat – práce žáka s IVP

Jméno: Miloslav

1. Který ze slovanských kmenů se během stěhování národů usadil v nížině u řeky Vltavy?
  - a) Mojmírovci
  - b) Čechové
  - c) Přemyslovci

1 bod
  
2. Nejsilnějším rodem tohoto kmeně byli:
  - a) Slavníkovci
  - b) Zlechové
  - c) Přemyslovci

1 bod
  
3. Který z českých knížat není znám jen z pověstí, ale dochovaly se o něm písemné záznamy?
  - a) Bivoj
  - b) Bořivoj
  - c) Zvonimír

X 1 bod
  
4. Který český kníže se dal jako první pokřtít?
  - a) Bořivoj
  - b) Václav
  - c) Boleslav

1 bod
  
5. Jak zemřel kníže Václav, který byl po své smrti prohlášen za svatého?
  - a) byl na příkaz svého bratra zabit
  - b) byl přepaden lupiči, když jel navštívit bratra
  - c) zemřel ve stáří přirozenou smrtí

+ 1 bod
  
6. Václavova babička, která ho vychovávala, se jmenovala:
  - a) Drahomíra
  - b) Ludmila
  - c) Libuše

1 bod
  
7. Který český kníže dal razit stříbrné mince, zvané denáry?
  - a) Václav
  - b) Boleslav
  - c) Bořivoj

1 bod
  
8. V Čechách byl na konci 10. století vyvražděn významný rod. Jmenoval se:
  - a) Slavníkovci
  - b) Slamníkovci
  - c) Klamníkovci

1 bod

9. Nejvíce lidí se živilo:

- a) psaním knih
- b) zemědělstvím a chovem dobytka
- c) žebráním

1 bod

10. Řemeslníci byli:

- a) lidé, kteří vyráběli různé potřebné předměty (hrnce, boty, ..)
- b) potulní provazolezci a herci
- c) dozorcí ve školách

1 bod

11. Číst a psát uměli ve středověku:

- a) nikdo to neuměl
- b) pouze urození a bohatí
- c) pouze mniši a kněží

1 bod

12. Kosmas byl:

- a) český kníže
- b) kronikář
- c) osobní strážce knížete Boleslava

1 bod

13. Kostely postavené v románském slohu se jmenovaly:

- a) rotundy a hraděště
- b) rotundy a hrady
- c) rotundy a baziliky

1 bod

## SEBEHODNOCENÍ

V tomto testu jsem mohl/a získat maximálně 13 bodů.

Získal/a jsem: 11

S tímto výsledkem jsem spokojený/á: ANO  NE

Test považuji za jednoduchý (na škále – čím více okének vybarvím, tím byl pro mě test obtížnější).

--	--	--	--



1. Zakroužkuj nejsilnější rod z kmene Čechů, který se usadil v nížině u řeky Vltavy:  
 a/ Slavníkovci  
 b/ Mojmírovci  
 c/ Přemyslovci

2. Zakroužkuj, který přemyslovský kníže se dal jako první pokřtít:  
 a) Bořivoj  
 b) Boleslav  
 c) Václav

3. Ludmila byla Václavova:  
 a) matka  
 b) babička  
 c) kmotra

4. Zakroužkuj, jak kníže Václav zemřel:  
 a) jeho bratr ho nechal zavraždit  
 b) nešťastnou náhodou při lovu zvěře  
 c) zemřel po dlouhé nemoci

5. Kníže Boleslav nechal razit stříbrné mince zvané: (zakroužkuj)  
 a) duhovky  
 b) denáry  
 c) dolary

6. Významný vyvražděný rod se jmenoval (zakroužkuj):  
 Mojmírovci  
 Slavníkovci  
 Habsburkové  
 Slavníkovci

7. První kroniku o historii našich zemí napsal:  
 a) Kosmas  
 b) Jindřich Ptáčník  
 c) Boleslav

8. V českém státě se nejvíce lidí živilo:

- a) opisem knih
- b) zemědělstvím a řemeslům
- c) obchodu

1

9. Kostely postavené v románském slohu se jmenovaly:

*refektorie a baziliky*

2

10/10



#### 4. Český stát za přemyslovských králů – práce žáka nadaného

1. Jak bys vysvětlil, co znamená dědičný královský titul?

*3 B* Právní dědičnost, která se přenáší z otce na syna a bratry, nebo se může stát i jeho nejstarší syn.

1 bod

2. Kdo získal dědičný titul krále jako první?

a) Přemysl Otakar I.  
b) Přemysl Otakar II.  
c) Metoděj

1 bod

3. Jak se jmenovala listina, která dědičnou královskou hodnost potvrzovala?

a) Zlatá bula česká  
b) Zlatá bula sicilská  
c) Stříbrná bula sicilská

1 bod

4. Přemysl Otakar II. byl přezdíván králem 1. Kobcovským  
2. Zlatým

2 body

5. Jak se nazývají mince, které dal razit Václav II.?

a) pražské groše  
b) pražské zlaťáky  
c) pražské cínkoše

1 bod

6. Přemyslovští králové budovali:

a) silnice a rybníky  
b) vodovody a kanalizace  
 c) hrady a města

1 bod

7. Co chránilo středověká města před útočníky?

a) železné mříže  
b) kamenné hradby  
c) elektrické ohradníky

Znáš nějaké město z našeho okolí, kde se tato ochrana před útočníky dochovala dodnes?

Beroun

2 body

8. Znáš nějaké hrady v našem okolí? /vyber, zakroužkuj/

Karlštejn  
 Znojmo  
 Znojmo

Točník  
 Křivoklát  
 Křivoklát

4 body

9. Který z panovníků byl král český, polský a uherský?

- a) Přemysl Otakar II.  
 b) Václav II.  
 c) Václav III.

1 bod

10. Posledním panovníkem rodu Přemyslovců byl:

- a) Václav III.  
 b) Přemysl Otakar III.  
 c) Přemysl Václav III.

1 bod

11. Co to znamená, když panovnický rod vymřel po meči?

~~Už nikdy žádný potomek neměl a narodil~~

1 bod

12. Co měl rod Přemyslovců na svém znaku?

- a) stříbrného lva se dvěma ocasy na červeném pozadí  
 b) černou orlici na žlutém pozadí  
 c) bílého beránka na modrém pozadí

1 bod

13. Která řada posledních Přemyslovců je napsána ve správném pořadí?

- a) Přemysl Otakar I., Přemysl Otakar II., Václav I., Václav II., Václav III.  
 b) Václav I., Václav II., Václav III., Přemysl Otakar I., Přemysl Otakar II.  
 c) Přemysl Otakar I., Václav I., Přemysl Otakar II., Václav II., Václav III.

1 bod

## SEBEHODNOCENÍ

V tomto testu jsem mohl/a získat maximálně 18 bodů.

Získal/a jsem: 17

S tímto výsledkem jsem spokojený/á  ANO /  NE

Test považuji za jednoduchý (na škále – čím více okének vybarvím, tím byl pro mě test obtížnější).

--	--	--	--



1. Kdo získal dědičný titul krále jako první? 1

a) Václav II.  
 b) Přemysl Otakar I.  
 c) Přemysl Otakar II.

Vysvětli, co znamená dědičný královský titul?  
*Znamená to, že se stane králem a jeho nejstarší syn bude králem a  
 takle se bude i v jeho syna* 1

Jak se jmenovala listina, která tuto dědičnou královskou hodnost potvrzovala?  
*sladká kula sicilská* 1

2. Přemysl Otakar II. byl přezdíván králem /zakroužkuj/ \_\_\_\_\_ železným a stříbrným  
 \_\_\_\_\_ stříbrným a zlatým  
 železným a zlatým 1

3. Jak se nazývají mince, které dal razit Václav II.?  
 a) pražské penízky  
 b) pražské zlaťáky  
 c) pražské groše 1

4. Přemyslovští králové budovali:  
 a) hrady a města 1  
 b) vodovody a kanalizace  
 c) hradiště a vesnice

5. Jmenuj, které hrady znáš v našem okolí?  
 1. *Karlštejn*  
 2. *Bočkov*  
 3. *Lehovec* 3





6. Který z panovníků byl král český, polský a uherský? 1
- a) Přemysl Otakar II.
  - b) Václav III.
  - c) Václav II.
7. Posledním panovníkem rodu Přemyslovců byl: 1
- a) Václav III.
  - b) Přemysl Otakar III.
  - c) Václav II.
8. Co to znamená, když panovnícký rod vymřel po meči? 1
- a) panovník neměl žádné děti, proto se říká, že rod vymřel po meči
  - b) panovník neměl žádnou dceru, proto se říká, že rod vymřel po meči
  - c) panovník neměl žádného syna, proto se říká, že rod vymřel po meči
9. Co neměl rod Přemyslovců na svém znaku? *(v době králov)* 1
- a) stříbrného dvojocasého lva
  - b) černou orlici
  - c) stříbrného lva na červeném podkladě

13/13



#### 4. Český stát za přemyslovských králů – práce žáka podávajícího obvykle podprůměrné výkony

1. Jak bys vysvětlil, co znamená dědičný královský titul?  
*Když je najslovší z královské rodiny stane se králem po otci on.*  
 1 bod

2. Kdo získal dědičný titul krále jako první?  
 a) Přemysl Otakar I.  
 b) Přemysl Otakar II.  
 c) Metoděj  
 1 bod

3. Jak se jmenovala listina, která dědičnou královskou hodnost potvrzovala?  
 a) Zlatá bula česká  
 b) Zlatá bula sicilská  
 c) Stříbrná bula sicilská  
 1 bod

4. Přemysl Otakar II. byl přezdíván králem 1. *železný a*  
 2. *slavný*  
 2 body

5. Jak se nazývají mince, které dal razit Václav II.?  
 a) pražské groše  
 b) pražské zlaťáky  
 c) pražské cinkoše  
 1 bod

6. Přemyslovští králové budovali:  
 a) silnice a rybníky  
 b) vodovody a kanalizace  
 c) hrady a města  
 1 bod

7. Co chránilo středověká města před útočníky?  
 a) železné mříže  
 b) kamenné hradby  
 c) elektrické ohradníky  
 Znáš nějaké město z našeho okolí, kde se tato ochrana před útočníky dochovala dodnes?  
*Buroun*  
 2 body

9. Znáš nějaké hrady v našem okolí? /vyber, zakroužkuj/

Lednice  
Karištein  
Zebra

Ločnick  
Korobíště  
Křivokláž

4 body

9. Který z panovníků byl král český, polský a uherský?

- a) Přemysl Otakar II.
- b) Václav II.
- c) Václav III.

1 bod

10. Posledním panovníkem rodu Přemyslovců byl:

- a) Václav III.
- b) Přemysl Otakar III.
- c) Přemysl Václav III.

1 bod

11. Co to znamená, když panovnícký rod vymřel po meči?

*nebyl žádný mužský potomek*

1 bod

12. Co měl rod Přemyslovců na svém znaku?

- a) stříbrného lva se dvěma ocasy na červeném pozadí
- b) černou orlici na žlutém pozadí
- c) bílého beránka na modrém pozadí

1 bod

13. Která řada posledních Přemyslovců je napsána ve správném pořadí?

- a) Přemysl Otakar I., Přemysl Otakar II., Václav I., Václav II., Václav III.
- b) Václav I., Václav II., Václav III., Přemysl Otakar I., Přemysl Otakar II.
- c) Přemysl Otakar I., Václav I., Přemysl Otakar II., Václav II., Václav III.

1 bod


## SEBEHODNOCENÍ

V tomto testu jsem mohl/a získat maximálně 18 bodů.

Získal/a jsem: 10

S tímto výsledkem jsem spokojený/á:  ANO /  NE

Test považuji za jednoduchý (na škále – čím více okének vybarvím, tím byl pro mě test obtížnější).



1. Kdo získal dědičný titul krále jako první?

- a) Václav II.
- b) Přemysl Otakar I.
- c) Přemysl Otakar II.

0

Vysvětlí, co znamená dědičný královský titul?

*Když dostane nejstarší syn královské po svém otci.*

1

Jak se jmenovala listina, která tuto dědičnou královskou hodnost potvrzovala?

*mladá kniha sicilská*

1

2. Přemysl Otakar II. byl přezdíván králem /zakroužkuj/

- železným a stříbrným
- stříbrným a zlatým
- železným a zlatým

1

3. Jak se nazývají mince, které dal razit Václav II.?

- a) pražské penízky
- b) pražské zlatáky
- c) pražské groše

1

4. Přemyslovští králové budovali:

- a) hrady a města
- b) vodovody a kanalizace
- c) hradiště a vesnice

1

5. Jmenuj, které hrady znáš v našem okolí?

1. ~~oklík~~
2. ~~benoun~~
3. ~~tačnick~~

1

6. Který z panovníků byl král český, polský a uherský?

- a) Přemysl Otakar II.
- b) Václav III.
- c) Václav II.

0

7. Posledním panovníkem rodu Přemyslovců byl:

- a) Václav III.
- b) Přemysl Otakar III.
- c) Václav II.

0

8. Co to znamená, když panovnický rod vymřel po meči?

- a) panovník neměl žádné děti, proto se říká, že rod vymřel po meči
- b) panovník neměl žádnou dceru, proto se říká, že rod vymřel po meči
- c) panovník neměl žádného syna, proto se říká, že rod vymřel po meči

1

9. Co neměl rod Přemyslovců na svém znaku? *(v době králov)*

- a) stříbrného dvojocasého lva
- b) černou orlici
- c) stříbrného lva na červeném podkladě

0

7/13



#### 4. Český stát za přemyslovských králů – práce žáka s IVP

1. Jak bys vysvětlil, co znamená dědičný královský titul?  
*Dědičný titul dostal kníže kdiz pomohl císařovi v bytvi. kdiz byal zemsel získal titul nejstarší sin krále.* 1 bod

2. Kdo získal dědičný titul krále jako první?  
 a) Přemysl Otakar I.  
 b) Přemysl Otakar II.  
 c) Metoděj 1 bod

3. Jak se jmenovala listina, která dědičnou královskou hodnost potvrzovala?  
 a) Zlatá bula česká  
 b) Zlatá bula sicilská  
 c) Stříbrná bula sicilská 1 bod

4. Přemysl Otakar II. byl přezdíván králem 1. *selezijnem*  
 2. *slabý* 2 body

5. Jak se nazývají mince, které dal razit Václav II.?  
 a) pražské groše  
 b) pražské zlaťáky  
 c) pražské cinkoše 1 bod

6. Přemyslovští králové budovali:  
 a) silnice a rybníky  
 b) vodovody a kanalizace  
 c) hrady a města 1 bod

7. Co chránilo středověká města před útočníky?  
 a) železné mříže  
 b) kamenné hradby  
 c) elektrické ohradníky

Znáš nějaké město z našeho okolí, kde se tato ochrana před útočníky dochovala dodnes?  
*Náměstí Beroun* 2 body

8. Znáš nějaké hrady v našem okolí? /vyber, zakroužkuj/

Lednice  
 Karlštejn  
 Zebrač

Ločín  
 Konopiště  
 Křivoklátek

4 body

9. Který z panovníků byl král český, polský a uherský?

- a) Přemysl Otakar II.  
 b) Václav II.  
 c) Václav III.

1 bod

10. Posledním panovníkem rodu Přemyslovců byl:

- a) Václav III.  
 b) Přemysl Otakar III.  
 c) Přemysl Václav III.

1 bod

11. Co to znamená, když panovnický rod vymřel po meči?

*známá se, zemřeli po meči*  
*není žádní jiní potomci*

1 bod

12. Co měl rod Přemyslovců na svém znaku?

- a) stříbrného lva se dvěma ocasy na červeném pozadí  
 b) černou orlici na žlutém pozadí  
 c) bílého beránka na modrém pozadí

1 bod

13. Která řada posledních Přemyslovců je napsána ve správném pořadí?

- a) Přemysl Otakar I., Přemysl Otakar II., Václav I., Václav II., Václav III.  
 b) Václav I., Václav II., Václav III., Přemysl Otakar I., Přemysl Otakar II.  
 c) Přemysl Otakar I., Václav I., Přemysl Otakar II., Václav II., Václav III.

1 bod

## SEBEHODNOCENÍ

V tomto testu jsem mohl/a získat maximálně 18 bodů.

Získal/a jsem: 16

S tímto výsledkem jsem spokojený/á: ANO /  NE

Test považuji za jednoduchý (na škále – čím více okének vybarvím, tím byl pro mě test obtížnější).

--	--	--	--



1. Kdo získal dědičný titul krále jako první?

- a) Václav II.
- b) Přemysl Otakar I.
- c) Přemysl Otakar II.

1

Vysvětli, co znamená dědičný královský titul?

*dědiční titul získal kdys pomohl císaři  
v bytve kdys král semšel stěděl sa  
nejstarší sin*

1

Jak se jmenovala listina, která tuto dědičnou královskou hodnost potvrzovala?

*zlatá bula sicilská*

1

2. Přemysl Otakar II. byl přezdíván králem /zakroužkuj/

železným a stříbrným

stříbrným a zlatým

železným a zlatým

0

3. Jak se nazývají mince, které dal razit Václav II.?

- a) pražské penízky
- b) pražské zlaťáky
- c) pražské groše

1

4. Přemyslovští králové budovali:

- a) hrady a města
- b) vodovody a kanalizace
- c) hradiště a vesnice

1

5. Jmenuj, které hrady znáš v našem okolí?

1. *Karlskýn*
2. *Jočník*
3. *Křivoklát*

3



6. Který z panovníků byl král český, polský a uherský? 1

a) Přemysl Otakar II.  
 b) Václav III.  
 c) Václav II.

7. Posledním panovníkem rodu Přemyslovců byl: 1

a) Václav III.  
 b) Přemysl Otakar III.  
 c) Václav II.

8. Co to znamená, když panovnický rod vymřel po meči? 1

a) panovník neměl žádné děti, proto se říká, že rod vymřel po meči  
 b) panovník neměl žádnou dceru, proto se říká, že rod vymřel po meči  
 c) panovník neměl žádného syna, proto se říká, že rod vymřel po meči

9. Co neměl rod Přemyslovců na svém znaku? 1

a) stříbrného dvojocasého lva  
 b) černou orlici  
 c) stříbrného lva na červeném podkladě

12/13

## 5. Lucemburkové na českém trůnu – práce žáka nadaného

1. Proč na český trůn usedl ve 14. století cizí král?  
 a) Přemyslovci už nechtěli vládnout  
 b) lidé už Přemyslovce za krále nechtěli  
 c)  Přemyslovci vymřeli po meči  
 1 bod

2. Co znamená, když vládnoucí rod vymře po meči?  
Ni nemají žádného mužského potomka. ✓  
 \_\_\_\_\_  
 \_\_\_\_\_  
 1 bod

3. Jak se jmenoval rod, který nastoupil na český trůn po Přemyslovcích?  
Lucemburkové ✓  
 1 bod

4. Jak se jmenovala sestra Václava III., která se provdala za nového českého krále?  
 a)  Anežka  
 b) Ludmila ✓  
 c)  Eliška  
 1 bod

5. Která řada českých králů patří do rodu Lucemburků?  
 a) Václav III., Václav IV., Václav V.  
 b)  Jan Lucemburský, Karel IV., Václav IV., Zikmund  
 c) Karel I., Karel II., Karel III., Karel IV.  
 1 bod

6. Vyber /podtrhni/ ze seznamu stavby, které byly vybudovány za vlády Karla IV.?  
hrad Karlštejn, Chrám sv. Víta, rotundy, Karlův most, hradiště, Nové Město pražské, pražská univerzita  
 5 bodů

7. Kolik manželek měl Karel IV.?  
Karel IV. měl 4 manžely. ✓  
 \_\_\_\_\_  
 Jmenuj alespoň jednu z nich.  
Anna. ✓  
 2 body

8. Která ze tří možností správně vysvětluje význam slova „odpustky“?
- a) hříšníkům byli prominuty hříchy, pokud a jejich odpuštění zaplatili
  - b) prominutí trestu provinilci, který vykonal uložené prospěšné práce
  - c) propustky, které dostávali královští vojáci, aby mohli navštívit rodinu

1 bod

9. Jak se nazývá nový stavební sloh, který se rozšířil za vlády Karla IV.?

Gothika

1 bod

## SEBEHODNOCENÍ

V tomto testu jsem mohl/a získat maximálně 14 bodů.

Získal/a jsem: 14

S tímto výsledkem jsem spokojený/á: ANO / NE

Test považuji za jednoduchý (na škále – čím více okének vybarvím, tím byl pro mě test obtížnější).

--	--	--	--	--



1. Který rod nastoupil na český trůn po Přemyslovcích?

A Lucemburkové.

Proč nastoupil na český trůn tento rod?

Období Přemyslovců vyvrátilo po meči a Elišbě Přemyslovna si vzala Jana Lucemburského.

Co to znamená, když rod vymře po meči?

Už není žádný <sup>myslel</sup> potomek.

3

2. Jak se jmenovala sestra Václava III., která se provdala za nového českého krále?

- a) Ludmila
- b) Libuše
- c) Eliška

Jak se jmenoval král, kterého si vzala?

Jan I. Lucemburský

2

3. Jak se jmenoval jejich syn, který nastoupil na český trůn po smrti svého otce?

- a) Václav IV.
- b) Karel IV.
- c) Přemysl Otakar II.

1

4. Kolik manželek měl Karel IV.? Jmenuj alespoň jednu:

4. Anna...

2

5. Jmenuj tři stavby, které nechal vybudovat Karel IV.

1. Karlštejn
2. Karlův most
3. Chrám sv. Víta

3

6. Jak se nazývá stavební sloh, který se rozšířil za vlády Karla IV. ?

- a) románský
- b) gotický
- c) germánský

1

7. Která ze tří možností správně vysvětluje význam slova „odpustky“?

- a) propustky, které dostávali královští vojáci, aby mohli navštívit rodinu
- b) prominutí trestu provinilci, který vykonal uložené prospěšné práce
- c) hříšníkům byly prominuty hříchy, pokud za jejich odpuštění zaplatili

1

13/13



**5. Lucemburkové na českém trůnu – práce žáka podávajícího obvykle podprůměrné výkony**

1. Proč na český trůn usedl ve 14. století cizí král?  
 a) Přemyslovci už nechtěli vládnout  
 b) lidé už Přemyslovce za krále nechtěli  
 c) Přemyslovci vymřeli po meči 1 bod

2. Co znamená, když vládnoucí rod vymře po meči?  
 už neměli žádného mužského potomka. 1 bod

3. Jak se jmenoval rod, který nastoupil na český trůn po Přemyslovcích?  
 Lucemburkové 1 bod

4. Jak se jmenovala sestra Václava III., která se provdala za nového českého krále?  
 a) Anežka  
 b) Ludmila  
 c) Eliška 1 bod

5. Která řada českých králů patří do rodu Lucemburků?  
 a) Václav III., Václav IV., Václav V.  
 b) Jan Lucemburský, Karel IV., Václav IV., Zikmund  
 c) Karel I., Karel II., Karel III., Karel IV. 1 bod

6. Vyber /podtrhni/ ze seznamu stavby, které byly vybudovány za vlády Karla IV.?  
 hrad Karlštejn, Chrám sv. Víta, rotundy, Karlův most, hradiště, Nové Město pražské, pražská univerzita. 5 bodů

7. Kolik manželek měl Karel IV.?  
 4 1 bod

Jmenuj alespoň jednu z nich.  
 Eliška, Anežka 2 body

8. Která ze tří možností správně vysvětluje význam slova „odpustky“?
- a) hříšníkům byli prominuty hříchy, pokud a jejich odpuštění zaplatili
  - b) prominutí trestu provinilci, který vykonal uložené prospěšné práce
  - c) propustky, které dostávali královští vojáci, aby mohli navštívit rodinu

1 bod

9. Jak se nazývá nový stavební sloh, který se rozšířil za vlády Karla IV.?

gotika ✓

1 bod

## SEBEHODNOCENÍ

V tomto testu jsem mohl/a získat maximálně 14 bodů.

Získal/a jsem: 13

S tímto výsledkem jsem spokojený/á: ANO / NE

Test považuji za jednoduchý (na škále – čím více okének vybarvím, tím byl pro mě test obtížnější).

██████████	██████████	██████████	██████████	██████████
------------	------------	------------	------------	------------

1. Který rod nastoupil na český trůn po Přemyslovcích?

Lucemburkové

Proč nastoupil na český trůn tento rod?

Přemyslovci vymřeli po meči.

Co to znamená, když rod vymře po meči?

Nikdo nemá nárok mužského potomka. 3

2. Jak se jmenovala sestra Václava III., která se provdala za nového českého krále?

- a) Ludmila
- b) Libuše
- c) Eliška

Jak se jmenoval král, kterého si vzala?

Jan Lucemburský 2

3. Jak se jmenoval jejich syn, který nastoupil na český trůn po smrti svého otce?

- a) Václav IV.
- b) Karel IV. 1
- c) Přemysl Otakar II.

4. Kolik manželek měl Karel IV.? Jmenuj alespoň jednu:

Blanka + 1

5. Jmenuj tři stavby, které nechal vybudovat Karel IV.

1. Karlův most
2. Právská univerzita
3. Chrám sv. Víta 3



6. Jak se nazývá stavební sloh, který se rozšířil za vlády Karla IV. ?

- a) románský
- b) gotický
- c) germánský

1

7. Která ze tří možností správně vysvětluje význam slova „odpustky“?

- a) propustky, které dostávali královští vojáci, aby mohli navštívit rodinu
- b) prominutí trestu provinilci, který vykonal uložené prospěšné práce
- c) hříšníkům byly prominuty hříchy, pokud za jejich odpuštění zaplatili

1

12/13



## 5. Lucemburkové na českém trůnu – práce žáka s IVP

1. Proč na český trůn usedl ve 14. století cizí král?  
 a) Přemyslovci už nechtěli vládnout  
 b) lidé už Přemyslovce za krále nechtěli  
 c) Přemyslovci vymřeli po meči

1 bod

2. Co znamená, když vládnoucí rod vymře po meči?  
nebyl žádný jiný mužský potomek

1 bod

3. Jak se jmenoval rod, který nastoupil na český trůn po Přemyslovcích?  
Lucemburkové

1 bod

4. Jak se jmenovala sestra Václava III., která se provdala za nového českého krále?  
 a) Anežka  
 b) Ludmila  
 c) Eliška

1 bod

5. Která řada českých králů patří do rodu Lucemburků?  
 a) Václav III., Václav IV., Václav V.  
 b) Jan Lucemburský, Karel IV., Václav IV., Zikmund  
 c) Karel I., Karel II., Karel III., Karel IV.

1 bod

6. Vyber /podtrhni/ ze seznamu stavby, které byly vybudovány za vlády Karla IV.?  
hrad Karlštejn, Chrám sv. Víta, rotundy, Karlův most, hradiště, Nové Město pražské, pražská univerzita

5 bodů

7. Kolik manželek měl Karel IV.?  
4

Jmenuj alespoň jednu z nich.  
Blanka (marchéza)

2 body

8. Která ze tří možností správně vysvětluje význam slova „odpustky“?
- a) hříšníkům byli prominuty hříchy, pokud a jejich odpuštění zaplatili
  - b) prominutí trestu provinilci, který vykonal uložené prospěšné práce
  - c) propustky, které dostávali královští vojáci, aby mohli navštívit rodinu

1 bod

9. Jak se nazývá nový stavební sloh, který se rozšířil za vlády Karla IV.?

gotický sloh

1 bod

### SEBEHODNOCENÍ

V tomto testu jsem mohl/a získat maximálně 14 bodů.

Získal/a jsem: 14

S tímto výsledkem jsem spokojený/á: ANO / NE

Test považuji za jednoduchý (na škále – čím více okének vybarvím, tím byl pro mě test obtížnější).

--	--	--	--



1. Který rod nastoupil na český trůn po Přemyslovcích?  
Lucemburkové

Proč nastoupil na český trůn tento rod?  
Prabavci Přemyslovci vymřeli na meči.

Co to znamená, když rod vymře po meči?  
Vůdce nebyl řádný římský mužský potomek. 3

2. Jak se jmenovala sestra Václava III., která se provdala za nového českého krále?  
 a) Ludmila  
 b) Libuše  
 c) Eliška

Jak se jmenoval král, kterého si vzala?  
Jan Lucemburský 2

3. Jak se jmenoval jejich syn, který nastoupil na český trůn po smrti svého otce?  
 a) Václav IV.  
 b) Karel IV. 1  
 c) Přemysl Otakar II.

4. Kolik manželek měl Karel IV.? Jmenuj alespoň jednu:  
4, Blanka (markýta), Anna Tvrdnická 2

5. Jmenuj tři stavby, které nechal vybudovat Karel IV.  
 1. SHRÁM SV. VÍTA  
 2. KARLŮV MOST  
 3. PRAŽSKÁ UNIVERZITA 3

6. Jak se nazývá stavební sloh, který se rozšířil za vlády Karla IV. ?
- a) románský
  - b) gotický
  - c) germánský
7. Která ze tří možností správně vysvětluje význam slova „odpustky“?
- a) propustky, které dostávali královští vojáci, aby mohli navštívit rodinu
  - b) prominutí trestu provinilci, který vykonal uložené prospěšné práce
  - c) hříšníkům byly prominuty hříchy, pokud za jejich odpuštění zaplatili

13/13



## 6. Husitské války a události po nich – práce žáka nadaného

1. Poplatky za odpuštění hříchů, které vybírali kněží, se nazývají:

a) úplatky  
 b) odpustky  
 c) propustky

1 bod

2. Mistr Jan Hus byl:

a) kazatel  
 b) vojevůdce  
 c) profesor

2 body

3. Kde Jan Hus kázal?

(V bellémské kapli!)

1 bod

4. Kde musel obhajovat své přesvědčení?

V Roknicích.

Kdy byl upálen?

a) 5. července 1415  
 b) 6. července 1415  
 c) 6. července 1420

2 body

5. Které tvrzení o husitech je správné?

a) byli to obyvatelé Husince u Prachatic, kde se narodil Jan Hus  
 b) říkali si tak ti, kdo prosazovali názory Jana Husa  
 c) říkalo se tak lidem, kteří chovali a vykrmovali husy pro královskou tabuli

1 bod

6. Kdo skutečně velel husitskému vojsku?

(Jan zikob)

1 bod

7. Co měli husité ve znaku?

(holič)

Jak se jmenovalo město, které stoupenci Jana Husa založili?

(Pálov)

Jmenuj alespoň tři husitské zbraně:

(kobyla, meč, rýdli) / halapartna, cep

3 body

8. Účastníkům vojenských výprav proti husitům, které poslal do Čech papež, se říkalo:

- a) křižáci, protože měli na oděvu kříž jako znamení křesťanské víry
- b) koňáci, protože jezdili a bojovali na koních
- c) mřížáci, protože husity chytali a vsazovali za mříže

1 bod

9. Posledním českým panovníkem z rodu Lucemburků byl:

- a) Jan
- b) Zikmund
- c) Karel

1 bod

10. Jediný český panovník, který nepocházel z královského rodu byl:

- a) Zikmund
- b) Jan Žižka
- c) Jiří z Poděbrad

1 bod

11. Dva panovníci, kteří u nás vládli po husitských válkách, byli z rodu:

- a) Lucemburků
- b) Přemyslovců
- c) Jagellonců

1 bod

12. Zatím jsme poznali dva umělecké stavební slohy. Které?

- a) (románský sloh)
- b) (gotika)

2 body

### SEBEHODNOCENÍ

V tomto testu jsem mohl/a získat maximálně 17 bodů. ~~17~~ 19 bodů

Získal/a jsem: 18

S tímto výsledkem jsem spokojený/á: ANO / NE

Nejlehčí pro mě byla otázka číslo 1

Nejobtížnější pro mě byla otázka číslo 4

Test považuji za jednoduchý (na škále – čím více okének vybarvím, tím byl pro mě test obtížnější).



1. Jak se nazývají poplatky za odpuštění hříchů, které vybírali kněží? 1  
*Byly to odpustky*

2. Kdo to byl Mistr Jan Hus a kde kázal? 2  
*Byl to profesor a kazatel. Kázal v Bebečské kapli.*

3. Kde musel obhajovat své přesvědčení? 1  
*V Roklnici.*

4. Kdy byl upálen?  
 a) 7. července 1415 1  
 b) 6. července 1420  
 c) 6. července 1415

5. Kdo byli husité?  
 a) říkalo se tak lidem, kteří chovali a vykrmovali husy pro královskou tabuli  
 b) byli to obyvatelé Husince u Prachatic, kde se narodil Jan Hus 1  
 c) říkali si tak ti, kdo prosazovali názory Jana Husa

6. Co měli husité ve znaku? 1  
*Měli kalich.*

7. Kdo skutečně velel husitskému vojsku? 1  
*Byl to Jan Žižka.*

8. Jak se jmenovalo město, které stoupenci Jana Husa založili? 1  
*Jmenovalo se Tábor.*

9. Jmenuj alespoň tři husitské zbraně: 3  
*meč, šermácký, sudlice, šíp.*

10. Účastníkům vojenských výprav proti husitům, které poslal do Čech papež, se říkalo: 1  
*Křižáci.*



11. Posledním českým panovníkem z rodu Lucemburků byl:

- a) Karel IV.
- b) Václav IV.
- c) Zikmund

1

12. Jediný český panovník, který nepocházel z královského rodu byl:

- a) Jiří z Poděbrad
- b) Jan Hus
- c) Jan Žižka

1

13. Dva panovníci, kteří u nás vládli po husitských válkách, byli z rodu:

- a) Přemyslovců
- b) Jagellonců
- c) Lucemburků

1

14. Které dva umělecké slohy jsme zatím poznali?

- a) Románský klášter
- b) Gothic

2

18/18

### SEBEHODNOCENÍ

Jak jsem se připravoval/a na test?

Čím více okének vybarvím, tím více času jsem přípravě věnoval/a.

--	--	--	--	--

nerušil, jsem se tak učil doma, protože jsem poslouchal  
v hodinách.

## 6. Husitské války a události po nich – práce žáka podávajícího obvykle podprůměrné výkony

1. Poplatky za odpuštění hříchů, které vybírali kněží, se nazývají:

a) úplatky  
 b) odpustky  
 c) propustky

1 bod

2. Mistr Jan Hus byl:

a) kazatel  
 b) vojevůdce  
 c) profesor

2 body

3. Kde Jan Hus kázal?

Ve Sternské kapli

1 bod

4. Kde musel obhajovat své přesvědčení?

Ve Kostnici

Kdy byl upálen?

a) 5. července 1415  
 b) 6. července 1415  
 c) 6. července 1420

2 body

5. Které tvrzení o husitech je správné?

a) byli to obyvatelé Husince u Prachatic, kde se narodil Jan Hus  
 b) říkali si tak ti, kdo prosazovali názory Jana Husa  
 c) říkalo se tak lidem, kteří chovali a vykrmovali husy pro královskou tabuli

1 bod

6. Kdo skutečně velel husitskému vojsku?

Jan Žižka

1 bod

7. Co měli husité ve znaku?

kuřák

Jak se jmenovalo město, které stoupenci Jana Husa založili?

Tábor

2 BODY

Imenuj alespoň tři husitské zbraně:

meč kopí šídlo sekura

3 body

8. Účastníkům vojenských výprav proti husitům, které poslal do Čech papež, se říkalo:

a) křížáci, protože měli na oděvu kříž jako znamení křesťanské víry  
b) koňáci, protože jezdili a bojovali na koních  
c) mřížáci, protože husity chytali a vsazovali za mříže

1 bod

9. Posledním českým panovníkem z rodu Lucemburků byl:

a) Jan  
 b) Zikmund  
c) Karel

1 bod

10. Jediný český panovník, který nepocházel z královského rodu byl:

a) Zikmund  
b) Jan Žižka  
 c) Jiří z Poděbrad

1 bod

11. Dva panovníci, kteří u nás vládli po husitských válkách, byli z rodu:

a) Lucemburků  
b) Přemyslovců  
 c) Jagellonců

1 bod

12. Zatím jsme poznali dva umělecké stavební slohy. Které?

a) Románská katedrála  
b) gotika

2 body

**SEBEOHODNOCENÍ**

V tomto testu jsem mohl/a získat maximálně ~~12~~ bodů.


Získal/a jsem: 17

S tímto výsledkem jsem spokojený/á: ANO / NE

Nejlehčí pro mě byla otázka číslo 1

Nejobtížnější pro mě byla otázka číslo 4

Test považuji za jednoduchý (na škále – čím více okének vybarvím, tím byl pro mě test obtížnější).



Jméno: \_\_\_\_\_

1. Jak se nazývají poplatky za odpuštění hříchů, které vybírali kněží? 1  
odmysky
2. Kdo to byl Mistr Jan Hus a kde kázal? 2  
Byl misionář a kázal v Bečkovské hradě.
3. Kde musel obhajovat své přesvědčení? 1  
v Kostnici
4. Kdy byl upálen? 0  
  - a) 7. července 1415
  - b) 6. července 1420
  - c) 6. července 1415
5. Kdo byli husité? 1  
  - a) říkalo se tak lidem, kteří chovali a vykrmovali husy pro královskou tabuli
  - b) byli to obyvatelé Husince u Prachatic, kde se narodil Jan Hus
  - c) říkali si tak ti, kdo prosazovali názory Jana Husa
6. Co měli husité ve znaku? 1  
kalich
7. Kdo skutečně velel husitskému vojsku? 1  
Jan Žižka
8. Jak se jmenovalo město, které stoupenci Jana Husa založili? 1  
Tábor
9. Jmenuj alespoň tři husitské zbraně: 3  
cep, rúndich, smolnice, usáká
10. Účastníkům vojenských výprav proti husitům, které poslal do Čech papež, se říkalo: 1  
Křižáci

11. Posledním českým panovníkem z rodu Lucemburků byl:

- a) Karel IV.
- b) Václav IV.
- c) Zikmund

1

12. Jediný český panovník, který nepocházel z královského rodu byl:

- a) Jiří z Poděbrad
- b) Jan Hus
- c) Jan Žižka

1

13. Dva panovníci, kteří u nás vládli po husitských válkách, byli z rodu:

- a) Přemyslovců
- b) Jagellonců
- c) Lucemburků

1

14. Které dva umělecké slohy jsme zatím poznali?

- a) románský sloh
- b) gotika


2

17/18

## SEBEHODNOCENÍ

Jak jsem se připravoval/a na test?

Čím více okének vybarvím, tím více času jsem přípravě věnoval/a.



## 6. Husitské války a události po nich – práce žáka s IVP

1. Poplatky za odpuštění hříchů, které vybírali kněží, se nazývají:

a) úplatky  
 b) odpustky  
 c) propustky

1 bod

2. Mistr Jan Hus byl:

a) kazatel  
 b) vojevůdce  
 c) profesor

2 body

3. Kde Jan Hus kázal?

V chapli Bečlinské

1 bod

4. Kde musel obhajovat své přesvědčení?

KOSTNICE

Kdy byl upálen?

a) 5. července 1415  
 b) 6. července 1415  
 c) 6. července 1420

2 body

5. Které tvrzení o husitech je správné?

a) byli to obyvatelé Husince u Prachatic, kde se narodil Jan Hus  
 b) říkali si tak ti, kdo prosazovali názory Jana Husa  
 c) říkalo se tak lidem, kteří chovali a vykrmovali husy pro královskou tabuli

1 bod

6. Kdo skutečně velel husitskému vojsku?

Jan Žižka

1 bod

7. Co měli husité ve znaku?

KALIH

Jak se jmenovalo město, které stoupenci Jana Husa založili?

TÁBOR

Jmenuj alespoň tři husitské zbraně:

MEČ, CEP, KROUČEK

3 body

8. Účastníkům vojenských výprav proti husitům, které poslal do Čech papež, se říkalo:

- a) křižáci, protože měli na oděvu kříž jako znamení křesťanské víry
- b) koňáci, protože jezdili a bojovali na koních
- c) mřížáci, protože husity chytali a vsazovali za mříže

1 bod

9. Posledním českým panovníkem z rodu Lucemburků byl:

- a) Jan
- b) Zikmund
- c) Karel

1 bod

10. Jediný český panovník, který nepocházel z královského rodu byl:

- a) Zikmund
- b) Jan Žižka
- c) Jiří z Poděbrad

1 bod

11. Dva panovníci, kteří u nás vládli po husitských válkách, byli z rodu:

- a) Lucemburků
- b) Přemyslovců
- c) Jagellonců

1 bod

12. Zatím jsme poznali dva umělecké stavební slohy. Které?

GOTICKÝ

ROMÁNSKÝ

2 body

### SEBEHODNOCENÍ

V tomto testu jsem mohl/a získat maximálně 17 bodů.


Získal/a jsem: 16

S tímto výsledkem jsem spokojený/á: ANO / NE

Nejlehčí pro mě byla otázka číslo 9

Nejtížnější pro mě byla otázka číslo 12

Test považuji za jednoduchý (na škále – čím více okének vybarvím, tím byl pro mě test obtížnější).



1. Jak se nazývají poplatky za odpuštění hříchů, které vybírali kněží? 1  
COPISTKY

2. Kdo to byl Mistr Jan Hus a kde kázal? 2  
Mistr Jan Hus byl učitelem na Karlově univerzitě, kázal v kostele bezbříské

3. Kde musel obhajovat své přesvědčení? 0  
Mistr Jan Hus

4. Kdy byl upálen?  
 a) 7. července 1415  
 b) 6. července 1420 1  
 c) 6. července 1415

5. Kdo byli husité?  
 a) říkalo se tak lidem, kteří chovali a vykrmovali husy pro královskou tabuli 1  
 b) byli to obyvatelé Husince u Prachatic, kde se narodil Jan Hus  
 c) říkali si tak ti, kdo prosazovali názory Jana Husa

6. Co měli husité ve znaku? 1  
kalich

7. Kdo skutečně velel husitskému vojsku? 1  
Jan Žižka

8. Jak se jmenovalo město, které stoupenci Jana Husa založili? 1  
Tábor

9. Jmenuj alespoň tři husitské zbraně: 3  
meč, cep, písmička

10. Účastníkům vojenských výprav proti husitům, které poslal do Čech papež, se říkalo: 1  
přivrážci



11. Posledním českým panovníkem z rodu Lucemburků byl:

- a) Karel IV.
- b) Václav IV.
- c) Zikmund

1

12. Jediný český panovník, který nepocházel z královského rodu byl:

- a) Jiří z Poděbrad
- b) Jan Hus
- c) Jan Žižka

1

13. Dva panovníci, kteří u nás vládli po husitských válkách, byli z rodu:

- a) Přemyslovců
- b) Jagellonců
- c) Lucemburků

0

14. Které dva umělecké slohy jsme zatím poznali?

- a) gotický
- b) románský

2

16/18

### SEBEHODNOCENÍ

Jak jsem se připravoval/a na test?

Čím více okének vybarvím, tím více času jsem přípravě věnoval/a.

--	--	--	--	--

poslední volička jsem si nechala nevybarvenou  
protože jsem si to namasovala se školou

## 7. Začíná novověk – práce žáka nadaného

1. Období novověku v českých zemích začalo, když na trůn usedl panovník z rodu:

a) Jagellonců  
 b) Habsburků  
 c) Strassburků 1 bod

2. Jeden ze známých panovníků tohoto rodu byl:

a) Karel IV.  
 b) Rudolf II.  
 c) Zikmund 2 body

3. Jako jediný z panovníků tohoto rodu si za své sídlo vybral:

a) Vídeň  
 b) Pražský hrad  
 c) Cařihrad 1 bod

4. Měl mnoho zálib a na svůj hrad shromáždil:

a) sbírku známek  
 b) sbírku písní  
 c) sbírku obrazů a soch 1 bod

5. Jaké cizokrajné zvíře nechal ke svému dvoru přivést?

Na divy si přivést lva, 1 bod

6. K jeho zálibám patřily také: (jmenuj alespoň dvě)

průvodčai, magie, astronomie, astrologie, alchymie, port. vědy 2 body

7. Ke svému dvoru zval mnoho učenců. Spoj správně jméno učence s tím, čím se zabýval.

lékář	<del>Jan Kepler</del>	1/3
	<del>Jan Jesenský</del>	
hvězdář	<del>Tycho de Brahe</del>	

3 body

8. Za panování Rudolfa II. žil v Praze židovský rabín. Napiš, jak se jmenoval a co podle pověsti vytvořil?

Abraham Löw, vytvořil golem 2 body

9. U Rudolfova dvora se přizivovala i spousta podvodníků. Vyber, co se pokoušeli vyrobit:

- a) elixír mládí
- b) elixír moudrosti
- c) zlato

1/2

2 bod

10. V 16. století se objevil nový umělecký sloh:

- a) romance
- b) románský
- c) renesance

1 bod

11. Na počátku novověku začala podnikat i šlechta. Zakládali:

(Napiš alespoň dva příklady, co nechali zakládat?)

univerzity, gymnázia, lyceum, panské školy, měšťanské školy, měšťanské školy

1/2

2 body

12. Jaký vynález umožnil rozšíření vzdělanosti?

- a) vynález psacího stroje
- b) vynález pera
- c) vynález knihtisku

1 bod

### SEBEHODNOCENÍ

V tomto testu jsem mohl/a získat maximálně 19 bodů.

18

Získal/a jsem: 14

S tímto výsledkem jsem spokojený/á: ANO / NE

Nejlehčí pro mě byla otázka číslo 12, 9, 10, 4, 5, 6.

Nejobtížnější pro mě byla otázka číslo 11 a 7.

Test považuji za jednoduchý (na škále – čím více okének vybarvím, tím byl pro mě test obtížnější).

--	--	--	--

1. Z jakého rodu byl panovník, který usedl na trůn, když začalo v českých zemích období novověku?  
Zlatoburků 1

2. Jak se jmenuje jeden ze známých panovníků tohoto rodu, byl považován za podivína.  
Rudolf II. 4

3. Jako jediný z panovníků tohoto rodu si za své sídlo vybral:  
a) Varšava  
b) Vídeň  
c)  Pražský hrad 1

4. Měl mnoho zálib, vyber, kterým se věnoval:  
a)  alchymie  
b) archeologie  
c)  astronomie 2

5. Co na svůj hrad nechal shromáždit?  
Sbítku socha a obrazy 2

6. Jaké cizokrajné zvíře nechal ke svému dvoru přivést?  
lva 1

7. Jak se jmenoval židovský rabín, který podle pověsti vytvořil golema?  
Rabín Löw 1

8. Ke svému dvoru zval mnoho učenců. Spoj správně jméno učence s tím, čím se zabýval.

lékař	Jan Kepler
hvězdář	Jan Jesenský
	Tycho de Brahe

3

9. Co se pokoušeli vyrobit podvodníci, kteří byli u Rudolfova dvoru? Vyber.

- a) elixír mládí
- b) elixír moudrosti
- c) zlato

2

10. V 16. století se objevil nový umělecký sloh, jak se jmenoval?

Renesance

1

11. Jaký vynález umožnil rozšíření vzdělanosti?

knihárna

1

16/16

### SEBEHODNOCENÍ

Jak moc ti pomáhají tříbarevné testy při přípravě na hodnotící test?

Čím více okének vybarvím, tím více mi pomáhají.

(Můžeš doplnit slovním komentářem.)

--	--	--	--

Tříbarevné testy mi pomáhají moc, protože si  
sapomáhají otázkami a ujišťují se, že si rozumí dobře.  
Nemůžeme se víc učit.

## 7. Začíná novověk – práce žáka podávajícího obvykle podprůměrné výkony

1. Období novověku v českých zemích začalo, když na trůn usedl panovník z rodu:

a) Jagellonců  
 b) Habsburků  
 c) Strassburků 1 bod

2. Jeden ze známých panovníků tohoto rodu byl:

a) Karel IV.  
 b) Rudolf II. 1x 2 body  
 c) Zikmund

3. Jako jediný z panovníků tohoto rodu si za své sídlo vybral:

a) Vídeň  
 b) Pražský hrad  
 c) Cařihrad 1 bod

4. Měl mnoho zálib a na svůj hrad shromáždil:

a) sbírku známek  
 b) sbírku písní  
 c) sbírku obrazů a soch 1 bod

5. Jaké cizokrajné zvíře nechal ke svému dvoru přivést?

lva 1 bod

6. K jeho zálibám patřily také: (jmenuj alespoň dvě)

astronomie, astrologie, alchymie, přír. vědy 2 body

7. Ke svému dvoru zval mnoho učenců. Spoj správně jméno učence s tím, čím se zabýval.

lékař	—	<u>Jan Kepler</u>
	—	<u>Jan Jesenský</u>
hvězdař	—	<u>Týcho de Brahe</u>

3 body

8. Za panování Rudolfa II. žil v Praze židovský rabín. Napiš, jak se jmenoval a co podle pověsti vytvořil?

Shoo 2 body

9. U Rudolfova dvora se pŕižívovala i spousta podvodníkŕ. Vyber, co se pokoušeli vyrobit:

- a) elixír mládí
- b) elixír moudrosti
- c) zlato

1 2 bod

10. V 16. století se objevil nový umělecký sloh:

- a) romance
- b) románský
- c) renesance

1 bod

11. Na počátku novověku začala podnikat i šlechta. Zakládali:

(Napiš alespoň dva příklady, co nechali zakládat?)

*řivovna, rybník, mlina, sklárna*

2 body

12. Jaký vynález umožnil rozšíření vzdělanosti?

- a) vynález psacího stroje
- b) vynález pera
- c) vynález knihtisku

1 bod

## SEBEHODNOCENÍ

V tomto testu jsem mohl/a získat maximálně 19 bodŕ.

Získal/a jsem: 11

S tímto výsledkem jsem spokojený/á: ANO  NE

Nejlehčí pro mě byla otázka číslo 5.

Nejobtížnější pro mě byla otázka číslo 8, 6.

Test považuji za jednoduchý (na škále – čím více okének vybarvím, tím byl pro mě test obtížnější).

--	--	--	--

1. Z jakého rodu byl panovník, který usedl na trůn, když začalo v českých zemích období novověku?  
Habsburkové 1

2. Jak se jmenuje jeden ze známých panovníků tohoto rodu, byl považován za podivína.  
Rudolf II. 1

3. Jako jediný z panovníků tohoto rodu si za své sídlo vybral:  
a) Varšava  
b) Vídeň  
 c) Pražský hrad 1

4. Měl mnoho zálib, vyber, kterým se věnoval:  
 a) alchymie 2  
b) archeologie  
 c) astronomie

5. Co na svůj hrad nechal shromáždit?  
Sbírku uměleckých děl. 1

6. Jaké cizokrajné zvíře nechal ke svému dvoru přivést?  
lova 1

7. Jak se jmenoval židovský rabín, který podle pověsti vytvořil golema?  
Low 1

8. Ke svému dvoru zval mnoho učenců. Spoj správně jméno učence s tím, čím se zabýval.

lékař	—	Jan Kepler
hvězdář	—	Jan Jesenský
	—	Tycho de Brahe

3



9. Co se pokoušeli vyrobit podvodníci, kteří byli u Rudolfova dvoru? Vyber.

- a) elixír mládí
- b) elixír moudrosti
- c) zlato

2

10. V 16. století se objevil nový umělecký sloh, jak se jmenoval?

*Maniera*

1

11. Jaký vynález umožnil rozšíření vzdělanosti?

*Knihlisko*

1

15/16

### SEBEHODNOCENÍ

Jak moc ti pomáhají tříbarevné testy při přípravě na hodnotící test?

Čím více okének vybarvím, tím více mi pomáhají.

(Můžeš doplnit slovním komentářem.)

				
---	---	---	--	--

*Djistím, co je potřeba se naučit a co ovládnout.*

---



---



---



---



---

## 7. Začíná novověk – práce žáka s IVP

1. Období novověku v českých zemích začalo, když na trůn usedl panovník z rodu:

a) Jagellonců  
 b) Habsburků  
 c) Strassburků 1 bod

2. Jeden ze známých panovníků tohoto rodu byl:

a) Karel IV.  
 b) Rudolf II.  
 c) Zikmund 1 body

3. Jako jediný z panovníků tohoto rodu si za své sídlo vybral:

a) Vídeň  
 b) Pražský hrad  
 c) Cařhrad 1 bod

4. Měl mnoho zálib a na svůj hrad shromáždil:

a) sbírku známek  
 b) sbírku písní  
 c) sbírku obrazů a soch 1 bod

5. Jaké cizokrajné zvíře nechal ke svému dvoru přivést?

lev 1 bod

6. K jeho zálibám patřily také: (jmenuj alespoň dvě)

obrazy, ovčáky, astronomie, alchymie  
průřeky 2 body

7. Ke svému dvoru zval mnoho učenců. Spoj správně jméno učenice s tím, čím se zabýval.

Lev — Jan Kepler  
obrazy, ovčáky — Jan Jeseňský  
průřeky — Tycho de Brahe 3 body

8. Za panování Rudolfa II. žil v Praze židovský rabín. Napiš, jak se jmenoval a co podle pověsti vytvořil?

LOV GOLEM 2 body

9. U Rudolfova dvora se přizivovala i spousta podvodníků. Vyber, co se pokoušeli vyrobit:

- a) elixír mládí
- b) elixír moudrosti
- c) zlato

2 bod

10. V 16. století se objevil nový umělecký sloh:

- a) romance
- b) románský
- c) renesance

1 bod

11. Na počátku novověku začala podnikat i šlechta. Zakládali:

(Napiš alespoň dva příklady, co nechali zakládat?)

PELOVARY / RIBNÍKY MLÍŇI SKLÁŘOVY

2 body

12. Jaký vynález umožnil rozšíření vzdělanosti?

- a) vynález psacího stroje
- b) vynález pera
- c) vynález knihtisku

1 bod

### SEBEHODNOCENÍ

V tomto testu jsem mohl/a získat maximálně 18 bodů.

Získal/a jsem: 16

S tímto výsledkem jsem spokojený/á: ANO / NE

Nejlehčí pro mě byla otázka číslo 4.

Nejobtížnější pro mě byla otázka číslo 6.

Test považuji za jednoduchý (na škále – čím více okének vybarvím, tím byl pro mě test obtížnější).

--	--	--	--	--

1. Z jakého rodu byl panovník, který usedl na trůn, když začalo v českých zemích období novověku?  
Habsburků 1

2. Jak se jmenuje jeden ze známých panovníků tohoto rodu, byl považován za podivína.  
Rudolf II. 1

3. Jako jediný z panovníků tohoto rodu si za své sídlo vybral:  
a) Varšava  
b) Vídeň  
 c) Pražský hrad 1

4. Měl mnoho zálib, vyber, kterým se věnoval:  
 a) alchymie  
b) archeologie  
 c) astronomie 2

5. Co na svůj hrad nechal shromáždit?  
Sbírku obrazů a soch 2

6. Jaké cizokrajné zvíře nechal ke svému dvoru přivést?  
LEV 1

7. Jak se jmenoval židovský rabín, který podle pověsti vytvořil golema?  
rabín Löw 1

8. Ke svému dvoru zval mnoho učenců. Spoj správně jméno učence s tím, čím se zabýval.

lékař	Jan Kepler
hvězdář	Jan Jesenský
	Tycho de Brahe

3

9. Co se pokoušeli vyrobit podvodníci, kteří byli u Rudolfova dvoru? Vyber.

- a) elixír mládí
- b) elixír moudrosti
- c) zlato

2

10. V 16. století se objevil nový umělecký sloh, jak se jmenoval?

Renesanční

1

11. Jaký vynález umožnil rozšíření vzdělanosti?

Knihstisk

1

16 / 16

## SEBEHODNOCENÍ

Jak moc ti pomáhají tříbarevné testy při přípravě na hodnotící test?

Čím více okének vybarvím, tím více mi pomáhají.

(Můžeš doplnit slovním komentářem.)

--	--	--	--

---



---



---



---